

## امتحان رواندگی قالیقرا (FARSI)

مستور العزل: اول از امتحان کتابچه رواندگی را مطالعه کنید.

هر سوالی سه جواب برای انتخاب دارد. یک جواب را انتخاب کنید و در جریح مقابل آن علامت X را بگذارید. هر جواب امتحان صحیح تکمیل از کتاب یا یادداشتها تلقین خواهد. وسایل الکترونیکی استفاده نکنید، و تا زمانیکه امتحانکنان را صمیمح نکرانند از محل امتحان خارج نشود. این کار حیوانه منجر به رد شدن شما در امتحان بشود. و ممکن است باعث به تحقیر فرامین یا ابطال کوالیفیکامه شما گردد.

نمره قالیقرا ————— 5 نقطه یا کمتر برای درخواست دهندگان جدید

3 نقطه یا کمتر برای درخواست دهندگانی که تجدید میکنند

1. رواندگی برای افراد 21 سال به بالا که غفلت الکل در خواشان (BAC) \_\_\_\_\_ یا بالاتر میباشد غیر قالیقرا است.

0.00% — شلخت یک صدمه نرصد

0.10% — یک دهم یک صدمه نرصد

0.05% — یک پنجم یک صدمه نرصد

2. شما باید در مدت 8 روز DMV را مطلع کنید اگر:

رنگه التوسیل خود را عوض کنید

جریمه رواندگی دریافت کنید

التوسیل خود را فروخته یا منتقل کنید

3. این نشانه سفید به این معنی است که شما:

نقطه در زمان قش (پسگال) سبز حیوانه به چپ بپیچید

وقتیکه امن است حیوانه به چپ بپیچید

باید صبر کنید تا چراغ کاملاً سبز بشود بعد به چپ بپیچید

4. شما با سرعت 65 مایل در ساعت در آخرین خط سمت چپ (تند) در جاده بیکه سرعت آن 55 مایل در ساعت است رواندگی میکنید.

ممکن است برای رواندگی پیش از حد اخصه جریمه شوید.

جاده یا قریب عوا تا این حد اخصه رواندگی کردن را حکم میکند

اگر حرکات مصوری و مناسبه ترافیک را محدود میکند

نقط هیچ شرایطی، چون همیشه امن تر است از بقیه ترافیک اخصه از رواندگی کنید

5. سینگار کاشین داخل التوسیلی که در آن شخصی زودتر 18 سال حضور دارد:

قالیقرا است، اگر فرزند شما باشد

همیشه غیر قالیقرا است

محدودیت قالیقرا ندارد

6. اگر التوسیل شما به خاطر آب در جاده (میدان روپوش) قش از سمت باده، شما باید:

با سرعت بکمو انکت رواندگی کنید تا قش بجای دست بیاورد

محدوم ترمز کنید تا مانع از آفر خوردن التوسیل بشود

بدریج سرعت خود را کاهش دهید و ترمز نکنید

7. چه زمانی قالیقرا حیوانه از زیر یا دور نوروز، تقاطع راه امن بروید؟

شما هیچ شرایطی

زمانیکه حیوانه هر دو جهت را واضح ببیند

زمانیکه چراغ های خطر چشمک نمی زند

8. چراغ های جلو التوسیل خود را برای ایستان گار جنرال در سوازی به کدام جهت می چرخانید؟

به سمت داخل جدول

جهت مخالف جدول

چراغی یا جدول

جهت حرکت شما نو خط ترابک وجود دارد. شما تر خط سمت چپ رانندگی می‌کنید و اطمینان‌هایی زیادی از سمت راست از شما سخت می‌گیرند. اگر راننده پیشانی شما می‌خواهد گفتار بیرون شما باشد:

نو خط خود معادله تا مانع خریدن ترابک نشود.

به روی شانه‌چپ جاده بروید تا توپول های تیارگر رد بشوند نو زمان مناسب و امن به خط راست بروید.

90. کدام از این جملات تر مورد جوش گرفتن خط درست است؟

قطب تر زمانی جوش گرفتن خط به سمت راست یا چپ لازم است برگردید و از روی شانه‌چپ خود نگاه کنید برای جوش گرفتن خط به سمت راست از روی شانه‌چپ است و برای

جوش گرفتن خط به چپ از روی شانه‌چپ نگاه کنید

توپول هایی که نو آینه بیرونی دارد نقطه کور ندارد

91. کدام یک از این راه ها برای جوش گرفتن خط درست است؟

راهنما زین- نگاه کردن تر آینه و سپس تغییر خط

راهنما زین- نگاه کردن تر آینه و نگاه کردن از روی شانه‌چپ از تغییر خط

نگاه کردن تر آینه نگاه کردن از روی شانه- سپس تغییر خط

92. زمانی‌که شخصی می‌تواند قانوناً پشت و انت بنشیند که:

نو طرف و انت حداقل 24 اینچ بلندی داشته باشد

پشت و انت به وسیله محافظ کمپندگ پوشیده باشد

از مسائلی‌ای همین و از کمربند ایمنی استفاده شود

93. شما باید به این ترتیب حق تقدم را به موتوروی اورژانس بدهید:

کلیتین به کنار و راست جاده و توقف کردن

بالاگامه متوقف شدن، حتی اگر تر چهارراه هستید

94. حد سرعت تر ناحیه مسکونی، مگر اینکه چیز دیگری نوشته شده باشد، این است:

35 مایل تر ساعت

30 مایل تر ساعت

25 مایل تر ساعت

95. ورود به چهارراه وقتی غیر قانونی است که:

تجهیزاتید به طور کامل قبل از فرور شدن چراغ رد بشود

چراغ زرد چشمک مزمن و شما توقف نکنید

چراغ زرد است و می‌توانید با خیال راحت توقف کنید

96. شب است. تو می‌بینی که به طرف شما می آید نور بالا زده است و دیدن جاده را مشکل می‌کند. شما باید:

به چتر به سمت کنار چپ خط خود نگاه کنید

به چتر به سمت کنار راست خط خود نگاه کنید

مستقیم به چتر تر خط خود نگاه کنید

97. این نشانه زرد به معنی این است:

پاک بچ نقد تر سمت راست است

خط مشخص کردن تر به راست

98. اگر برای رانندگی به محیطت آکان تر خون (BAC) بیش از اندازه مجرم شناخته شدید، ممکن است مجازات تر به:

تا حد اکثر شش ماه زندان بشود

تا حد اکثر نوزده ماه زندان بشود

زندان نشود ولی باید \$500 جریمه بشود

19. شما در چهارراهی که چراغ زرد چشمک زن دارد باید ساکن شوید؟

سرعت خود را حفظ کنید و با حفظ کنید وقتی چراغ قرمز می‌شود

قبل از عبور از چهارراه توقف کنید

سرعت را کم کنید و با احتیاط رد شوید

20. در تکلیف از موارد ذیل باید گزارش بروز حادثه ترافیکی در کابلینما (SR 1) را به دی DMR ارائه دهید:

تومپول شما نیست چه بود و وارد شده است

در تکی یک تصادف شده است و جراحاتی پیش آمده است

شرکت بیمه خود را تعیین نکرده است

21. ایگرگ به نشانه ترافیکی رنگ به این معنی است:

در جلو مشغول به کار هستید

شما باید در جلو خط توقف بمانید

در جلو مسیر ایستاده وجود دارد

22. در چهارراهی که کنترل وجود ندارد و شما ترافیکی مقابل را تا زمانیکه اجازه داده وارد چهارراه می‌شوید نمی‌توانید حد اکثر سرعت:

15 مایل در ساعت است

25 مایل در ساعت است

20 مایل در ساعت است

23. دو دسته خط زرد چسبان به فاصله نزدیک از هم:

خط میانی برای گردش به چپ یا دور زدن (موربرگردان) از آن عبور کرد

باید قبل از عبور از آن را قطع کرد و از آن عبور نکرد

میوان برای شروع یا انجام گردان گردش ها به سمت چپ از آن استفاده کرد

24. فاصله تومپول خود و تومپول جلو خود را زمانی تصادف کنید که:

تومپول مسافری در کوچه‌های را دنبال می‌کنید

تومپول دیگری از پشت نزدیک به شما را دنبال می‌کنید

از سرعت می‌گذرید و خطر را دنبال می‌کنید

25. چه زمانی می‌توانید فقط با استفاده از چراغ های پارکینگ خود را روشن کنید؟

30 دقیقه پس از خروج یا 30 دقیقه قبل از شروع خروج

تحت هیچ شرایطی

در روز های مه آلود که دید کم است

26. کدام یک از این جملات در مورد تومپول های بزرگ درست است؟

زمانی است آنها بیشتر از تومپول های مسافری است

آنها همه از سرعت های بادی دارند که اجازه میدهد سریع فرزند کنند

آنها به سمت تومپول های مسافری راحت تر لغزند و هستند

27. شما متوقف هستید که سر چراغ قرمز به راست بپیچید. برای پیاده مسافران تومپول شما متوقف عبور از خطی است که شما می‌توانید داخل آن شوید. وقتی چراغ سبز شد حق تقدم با کیست؟

حق تقدم با آنها پیاده است

حق تقدم در زمانی که چهارراه علامت گذاری نشده است قبل از خطی است که شما است

حق تقدم با شما است چون چراغ شما سبز است

28. کدام یک از این جملات در مورد موتورسیکلت ها درست است؟

موتورسیکلت ها کوچک هستند و به راحتی توسط رانندگان دیده می‌شوند

موتورسیکلت ها می‌توانند از خطوط ترافیکی استفاده کنند

موتورسیکلت ها را باید در یک کلاه فاصله دنبال کرد

خط زان به صورت، امن شامل همه اینها است به غیر از:

نگاه کردن از روی شانه است در زمان شده خط زان

بررسی پشت التوجیل خود قبل از سوار شدن

زان بیک سو یا کوچک قبل از شده خط زان

30. وقتی به محل عبور ظاهر پیاده میروید و حاضر ناچشمی مشظر عبور است، توقف شما باید:

پیشتر از ۴ فوت از محل خط کشی عبور پیاده فاصله داشته باشد تا اینکه حاضر حواسش توسط صدای موتور شما پرده نشود

در محل خط کشی حاضر پیاده باشد و مشظر بشود تا وی از جابه‌جایی عبور کند

در محل خط کشی حاضر پیاده باشد و سپس به خاطر نگردد چه زمان می‌تواند از جابه‌جایی عبور کند

31. در روز بارانی، برفی، یا ماه آلود برف‌ها یا بارش‌ها را روشن کنید و از چراغهای جلو التوجیل استفاده کنید:

روی نور بالا

موتوری که رانندگان دیگر شما را می‌بیند

نقطه در حال رانندگی در بزرگراه

32. اگر تان همراه شما در زمان رانندگی رنگ‌زد و شما وسیله مسجیت بدون نصب تابلو، باید:

جواب بدهید چون حیوانه اور زان باشد

با تابلو بیرون به دستگاه پیام‌گیر

شماره را قبل از جواب دادن نگاه کنید

33. کدام جمله از موارد موتور سوارها و رانندگان درست است؟

موتور سوارها در زمانی که شرایط جاده شروع است اجازه ندارند از بقیه ترافیک گذر بروند

موتور سوارها از همان حقوق ایستادگی‌ها بقیه رانندگان برخوردار هستند

موتور سوارها از بقیه وسایل نقلیه سنگین تر هستند و کلاس است تان با دارایان قوی می‌توانند

34. در زمان رانندگی شما باید به فاصله 10 تا 15 ثانیه جلوتر را نگاه کنید:

به روی وسط جاده بزرگ کنید

برای اینکه قانون ایجاب میکند

برای این به مواقع خطر است احتیاطی

35. نور زان (نور بزرگ‌ها) در تابلوه‌های دارای:

همیشه غیر قانونی است چون خطر دارد

در زمان التوجیل باعث خطر ایستادن قانونی است

در چهارراه قانونی است مگر اینکه نشانی ترا ممنوع کرده باشد

36. جاده دو طرفه پیاده در آن رانندگی می‌کنید خطی دارد که در هکس نشان داده شده است. استفاده این خط برای:

شروع یا تمام کردن گردش به چپ یا شروع دور زان (تور بزرگ‌ها) مجاز است

به تقاضای خط رانندگی معمولی در زمان های ترافیک سنگین است

ممنوعه گرفتن از گذر التوجیل‌هایی که اجتناب حرکت میکند

آزمون نشانه‌ها یا علامت (FARSI)

این آزمون نشانه‌ها یا علامت داده شده است. این آزمون ۱۰ سوال دارد. هر سوال سه نشانه و سه مربع جواب وجود دارد. نشانه‌ها همی را که کلمه درست است، با علامت "X" از هر مربعی که با آن شماره مطابقت دارد نشان دهید. خط آبی رنگ نمونه است.

سوال اول: کدام یک از این نشانه‌ها یا علامت‌ها به شما می‌گوید که تقاطع راه آبی از پیش رو است؟

|                                       |   |   |   |
|---------------------------------------|---|---|---|
| <input checked="" type="checkbox"/> 1 |  |  |  |
| <input type="checkbox"/> 2            |   |   |   |
| <input type="checkbox"/> 3            |   |   |   |



1. کدام نشانه می‌گوید که پیاده‌رو به سمت چپ از پیش رو است؟

|                                       |   |   |   |
|---------------------------------------|---|---|---|
| <input checked="" type="checkbox"/> 1 |  |  |  |
| <input type="checkbox"/> 2            |   |   |   |
| <input type="checkbox"/> 3            |   |   |   |




2. کدام نشانه به شما می‌گوید که وقتی قطار (پولکان) می‌رود از سمت چپانی می‌توانید بگذرید؟

|                                       |   |   |   |
|---------------------------------------|---|---|---|
| <input checked="" type="checkbox"/> 1 |  |  |  |
| <input type="checkbox"/> 2            |   |   |   |
| <input type="checkbox"/> 3            |   |   |   |

3. کدام نشانه به شما می‌گوید که وقتی چراغ قرمز است می‌توانید پیاده‌رو؟

|                                       |   |   |   |
|---------------------------------------|---|---|---|
| <input type="checkbox"/> 1            |  |  |  |
| <input checked="" type="checkbox"/> 2 |   |   |   |
| <input type="checkbox"/> 3            |   |   |   |

4. کدام نشانه به شما می‌گوید که در ایستگاه می‌توانید پیاده‌رو؟

|                                       |   |   |   |
|---------------------------------------|---|---|---|
| <input type="checkbox"/> 1            |  |  |  |
| <input checked="" type="checkbox"/> 2 |   |   |   |
| <input type="checkbox"/> 3            |   |   |   |

5. کدام نشانه به شما می‌گوید که باید مسیر ترافیک را از سمت چپ کنید؟

|                                       |   |   |   |
|---------------------------------------|---|---|---|
| <input type="checkbox"/> 1            |  |  |  |
| <input type="checkbox"/> 2            |   |   |   |
| <input checked="" type="checkbox"/> 3 |   |   |   |

